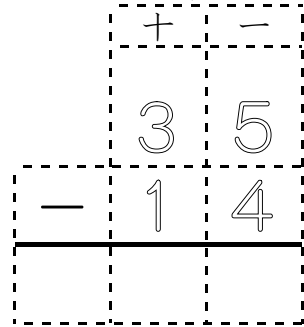


1 2年生のふく習 [くり下がりのないひき算]

しき  $35 - 14 = \underline{\quad}$

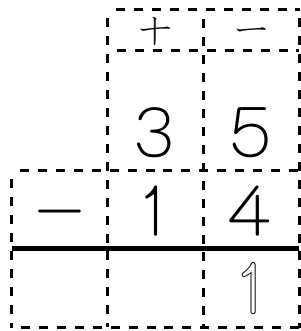
①位をそろえて

数字をかく



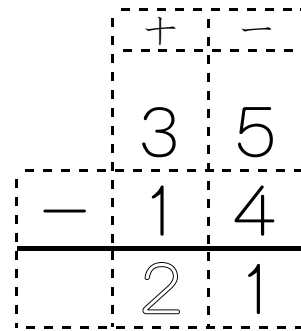
位をそろえる

②一の位を計算する



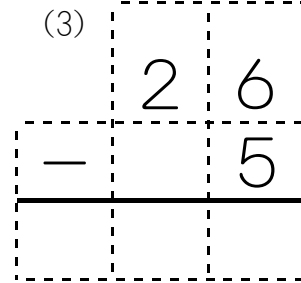
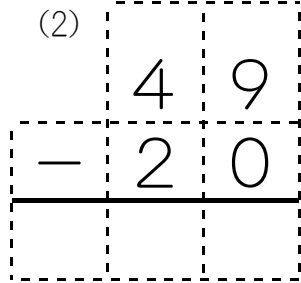
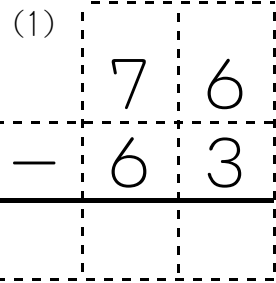
$5 - 4 = 1$

③十の位を計算する



$3 - 1 = 2$

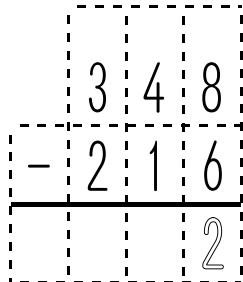
2 練習をしましょう



3 今日の学習 [くり下がりのないひき算]

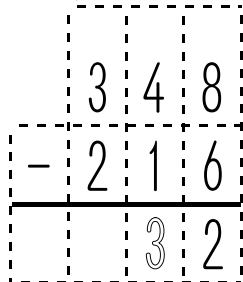
しき  $348 - 216 = \underline{\quad}$

①一の位



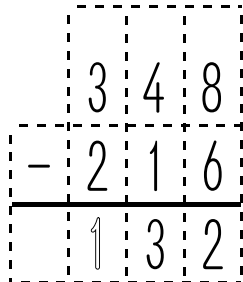
$8 - 6 = 2$

②十の位



$4 - 1 = 3$

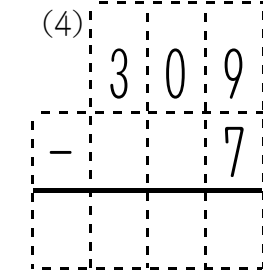
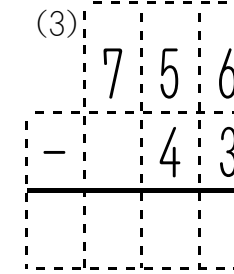
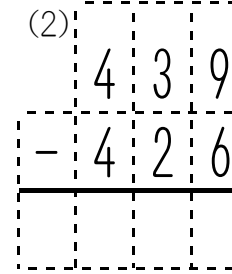
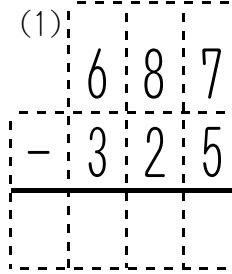
③百の位



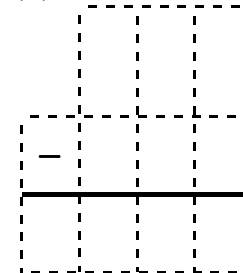
$3 - 2 = 1$

位をそろえる

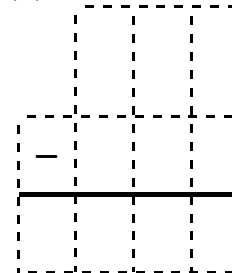
4 練習をしましょう



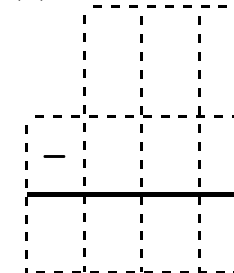
(5)  $824 - 624$



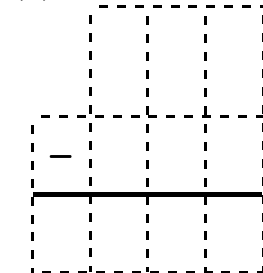
(6)  $208 - 102$



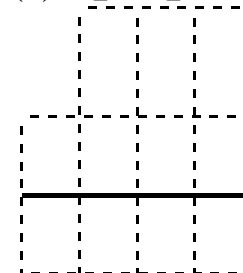
(7)  $530 - 320$



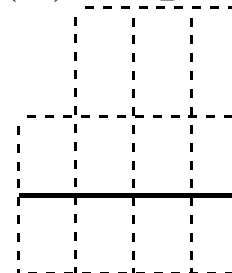
(8)  $962 - 20$



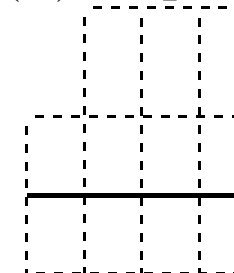
(9)  $826 - 624$



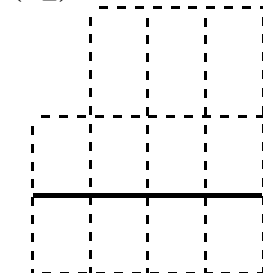
(10)  $577 - 241$



(11)  $543 - 23$



(12)  $780 - 500$



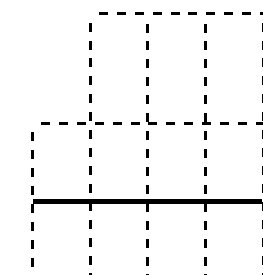
5 問題をときましょう

ペットボトルが 326本 あつまりました。  
 工作で 214本 つかいました。  
 何本のこっているでしょう。



式 \_\_\_\_\_

答 \_\_\_\_\_

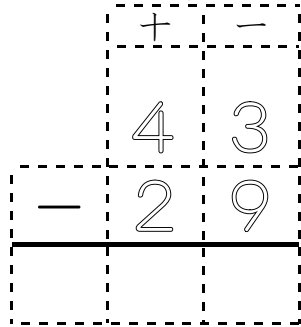


1 2年生のふく習 [十の位から一の位へくり下がるひき算]

しき  $43 - 29 = \underline{\quad}$

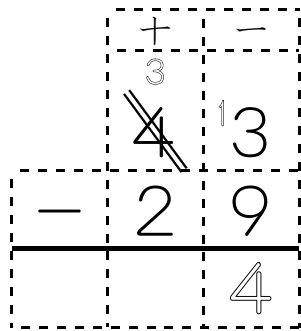
①位をそろえて

数字をかく



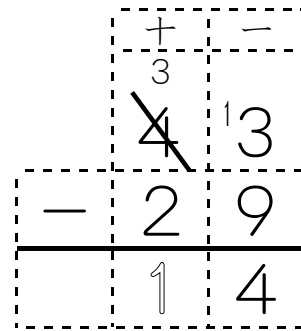
位をそろえる

②一の位を計算する



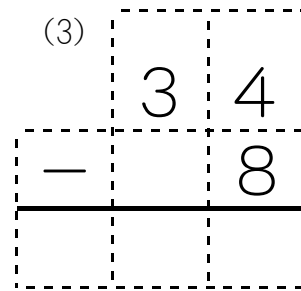
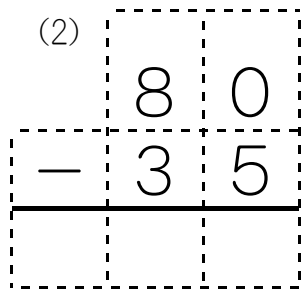
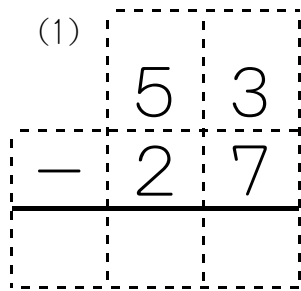
$13 - 9 = 4$

③十の位を計算する



$3 - 2 = 1$

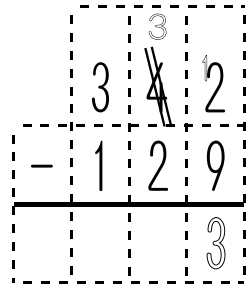
2 練習をしましょう



3 今日の学習 [十の位から一の位へくり下がるひき算]

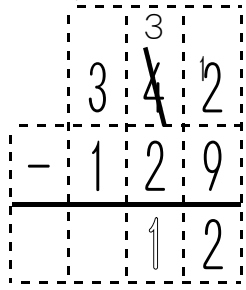
しき  $342 - 129 = \underline{\quad}$

①一の位



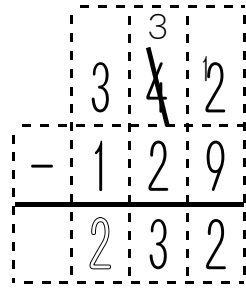
$12 - 9 = 3$

②十の位



$3 - 2 = 1$

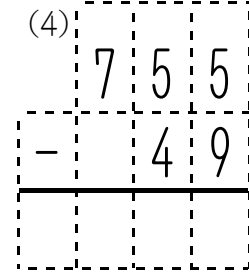
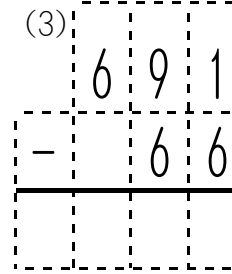
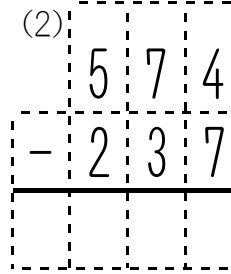
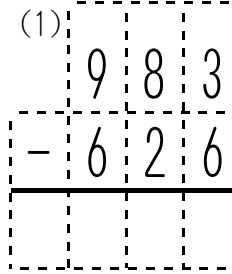
③百の位



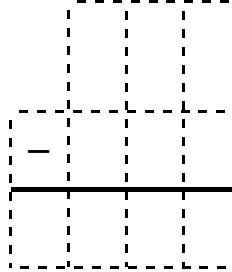
$3 - 1 = 2$

位をそろえる

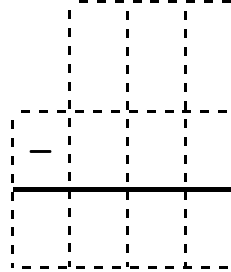
4 練習をしましょう



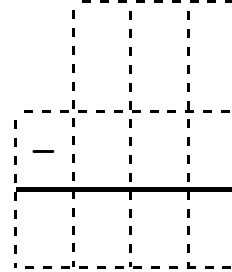
(5)  $822 - 504$



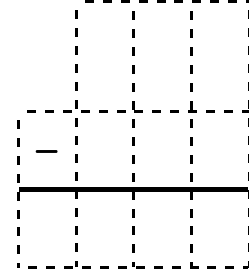
(6)  $360 - 249$



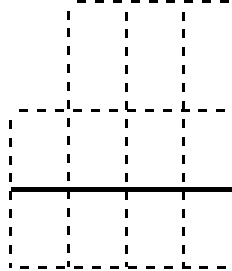
(7)  $490 - 37$



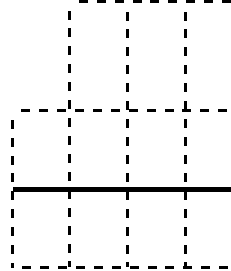
(8)  $246 - 8$



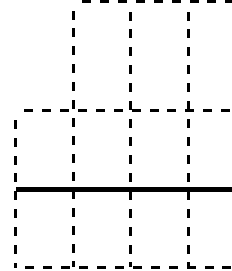
(9)  $562 - 246$



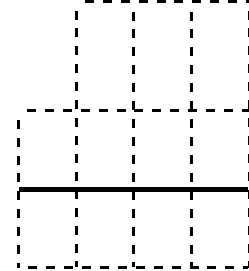
(10)  $410 - 302$



(11)  $950 - 45$




(12)  $820 - 4$



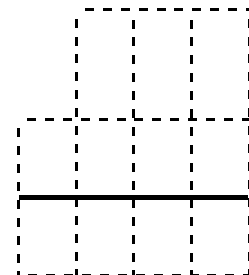
5 問題をときましょう

581 ページの本を  
242 ページまで読みました。  
あと何ページのこっているでしょう。



式 \_\_\_\_\_

答 \_\_\_\_\_



1 2年生のふく習 [百の位から十の位へくり下がるひき算]

しき  $125 - 83 =$  \_\_\_\_\_

①位をそろえて

②一の位を計算する

③十の位を計算する

数字をかく

百	十	一
1	2	5
-	8	3
_____		

位をそろえる

百	十	一
1	2	5
-	8	3
_____		2

$5 - 3 = 2$

百	十	一
<del>1</del>	2	5
-	8	3
_____		2
	4	

$12 - 8 = 4$

2 練習をしましょう

(1)

1	3	2
-	4	1
_____		

(2)

1	0	8
-	2	4
_____		

(3)

1	3	0
-	6	0
_____		

3 今日の学習 [百の位から十の位へくり下がるひき算]

しき  $327 - 145 =$  \_\_\_\_\_

①一の位

②十の位

③百の位

3	2	7
-	1	4
_____		

位をそろえる

3	2	7
-	1	4
_____		2

$7 - 5 = 2$

<del>3</del>	2	7
-	1	4
_____		2
	8	

$12 - 4 = 8$

<del>3</del>	<del>2</del>	7
-	1	4
_____		
1	8	2

$2 - 1 = 1$

4 練習をしましょう

(1)

5	7	6
-	3	9
_____		

(2)

8	2	9
-	4	7
_____		

(3)

4	3	8
-		7
_____		

(4)

7	0	0
-		6
_____		

(5)  $680 - 290$

-		
_____		

(6)  $402 - 132$

-		
_____		

(7)  $614 - 23$

-		
_____		

(8)  $909 - 59$

-		
_____		

(9)  $362 - 182$

-		
_____		

(10)  $206 - 114$

-		
_____		

(11)  $127 - 63$

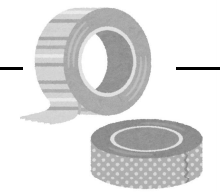
-		
_____		

(12)  $620 - 70$

-		
_____		

5 問題をときましょう

346 cm のリボンがありました。  
173 cm つかいました。  
のこっているのは何 cm でしょう。



式 \_\_\_\_\_

答 \_\_\_\_\_

-		
_____		

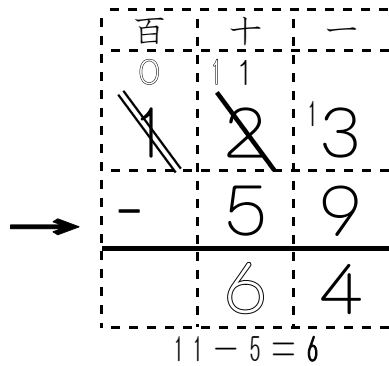
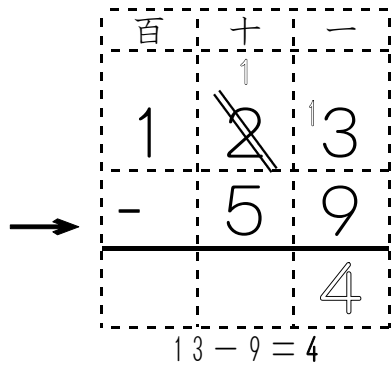
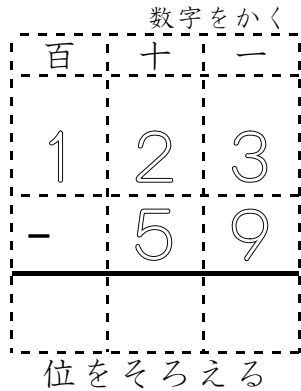
1 2年生のふく習 [十位から一の位・百の位から十の位へくり下がるひき算]

しき  $123 - 59 = \underline{\quad}$

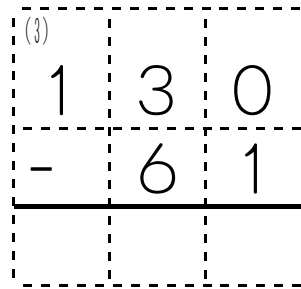
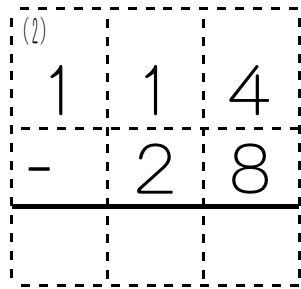
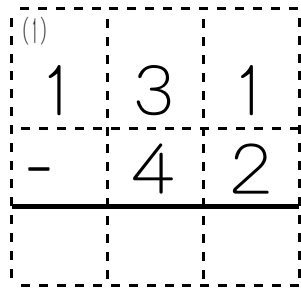
①位をそろえて

②一の位を計算する

③十の位を計算する

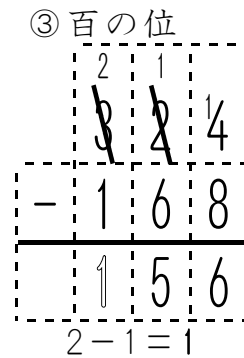
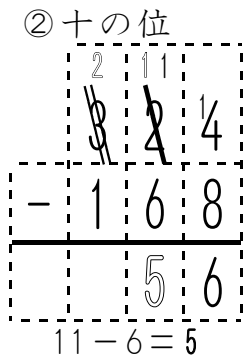
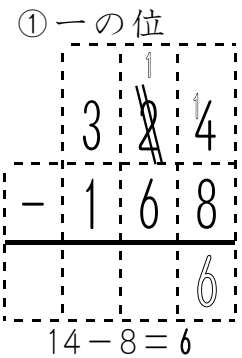
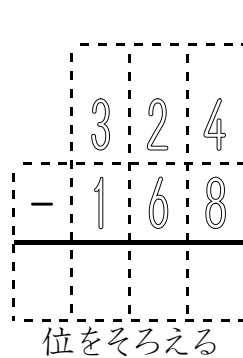


2 練習をしましょう

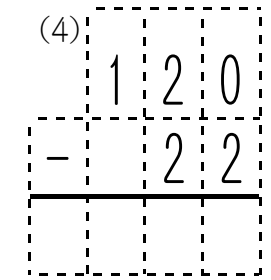
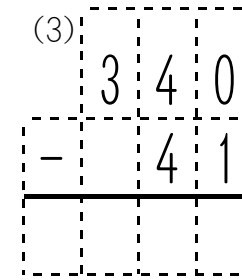
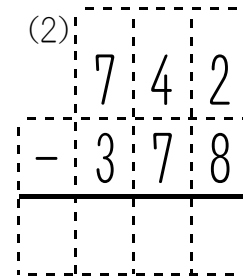
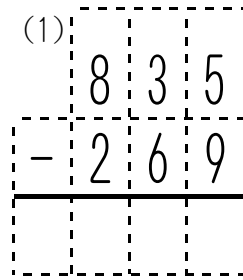


3 今日の学習 [十位から一の位・百の位から十の位へくり下がるひき算]

しき  $324 - 168 = \underline{\quad}$



4 練習をしましょう

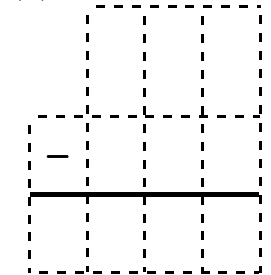
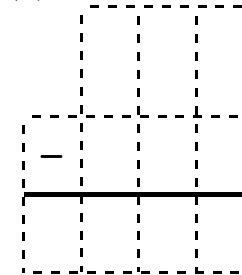
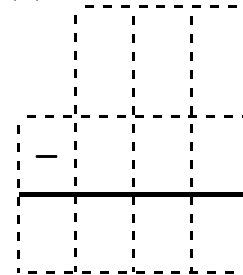
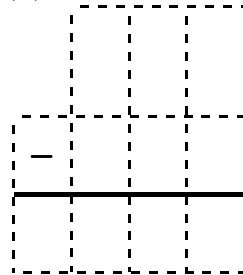


(5)  $267 - 189$

(6)  $560 - 293$

(7)  $634 - 56$

(8)  $470 - 82$

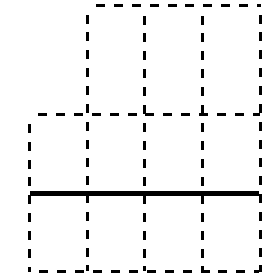
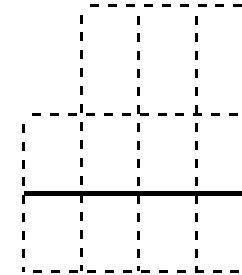
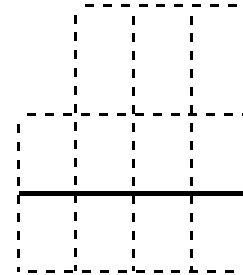
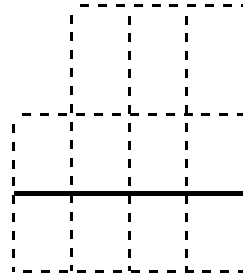


(9)  $426 - 279$

(10)  $913 - 625$

(11)  $752 - 94$

(12)  $580 - 86$



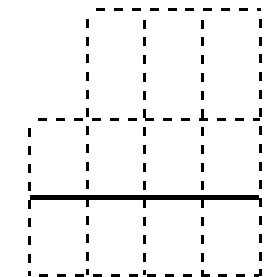
5 問題をときましょう

しゅうくんは 830円 もっています。  
565円 つかいました。  
いくらのこっているでしょうか。



式 \_\_\_\_\_

答 \_\_\_\_\_



1 2年生のふく習 [百の位から一の位までくり下がるひき算]

しき  $105 - 37 =$  \_\_\_\_\_

①百の位から くり下がり  
 ②十の位から くり下がり  
 ③一の位を 計算する  
 ④十の位を 計算する

くり下がり  
 さらにくり下がり  
 $15 - 7 = 8$   
 $9 - 3 = 6$

2 練習をしましょう

(1)  $107 - 48$   
 (2)  $102 - 23$   
 (3)  $108 - 9$

3 今日の学習 [百の位から一の位までくり下がるひき算]

しき  $302 - 174 =$  \_\_\_\_\_

①くり下がり ②くり下がり ③一の位 ④十の位 ⑤百の位


百から十へ 十から一へ  
 $12 - 4 = 8$   
 $9 - 7 = 2$   
 $2 - 1 = 1$

4 練習をしましょう

(1)  $405 - 238$   
 (2)  $902 - 456$   
 (3)  $200 - 143$   
 (4)  $300 - 2$   
 (5)  $603 - 317$   
 (6)  $706 - 269$   
 (7)  $800 - 706$   
 (8)  $100 - 9$   
 (9)  $501 - 142$   
 (10)  $604 - 277$   
 (11)  $702 - 56$   
 (12)  $106 - 9$

5 問題をときましょう

おり紙を あやかさんは406まい、  
 いもうとは 289まい もっています。  
 あやかさんの方が 何まい おおいでしょう。



式 \_\_\_\_\_

答 \_\_\_\_\_

\_\_\_\_\_

1 練習をしましょう

(1) 758-422

7	5	8
-	4	2
-----		

(2) 437-295

4	3	7
-	2	9
-----		

(3) 362-184

3	6	2
-	1	8
-----		

(4) 407-368

4	0	7
-	3	6
-----		

(5) 974-128

-		
-----		

(6) 803-76

-		
-----		

(7) 690-453

-		
-----		

(8) 508-4

-		
-----		

(9) 200-2

-		
-----		

(10) 389-129

-		
-----		

(11) 458-8

-		
-----		

(12) 781-142

-		
-----		

(13) 646-28

-		
-----		

(14) 923-770

-		
-----		

(15) 607-20

-		
-----		

(16) 666-67

-		
-----		

2 問題をときましょう

(1) \_\_\_\_\_  
 貝を 486こ ひろいました。  
 ともだちに 160こ あげました。  
 のこりは 何こに なったでしょうか。



式 \_\_\_\_\_

答 \_\_\_\_\_


(2) \_\_\_\_\_  
 お兄さんの しん長は 175cmです。  
 まさしくんの しん長は 129cmです。  
 ふたりのちがいは 何cmでしょう。



式 \_\_\_\_\_

答 \_\_\_\_\_

(3) \_\_\_\_\_  
 今年は ミニトマトが 324こ とれました。  
 きょ年は 今年より 56こ 少なかったそうです。  
 きょ年は 何こ とれたのでしょうか。



式 \_\_\_\_\_

答 \_\_\_\_\_

1 今日学習 [四ケタどうしのひき算]

しき  $3687 - 2145 =$  \_\_\_\_\_

①位をそろえて 数字をかく	②一の位を 計算する	③十の位を 計算する	④百の位を 計算する	⑤千の位を 計算する
$\begin{array}{r} 3687 \\ -2145 \\ \hline \end{array}$	$\begin{array}{r} 3687 \\ -2145 \\ \hline \phantom{00}2 \end{array}$	$\begin{array}{r} 3687 \\ -2145 \\ \hline \phantom{00}42 \end{array}$	$\begin{array}{r} 3687 \\ -2145 \\ \hline \phantom{00}542 \end{array}$	$\begin{array}{r} 3687 \\ -2145 \\ \hline 1542 \end{array}$
位をそろえる	$7-5=2$	$8-4=4$	$6-1=5$	$3-2=1$

2 練習をしましょう [くり下がりのないひき算・くり下がり1か所のひき算]

(1) $\begin{array}{r} 7563 \\ -4321 \\ \hline \end{array}$	(2) $\begin{array}{r} 6800 \\ -1200 \\ \hline \end{array}$	(3) $\begin{array}{r} 3798 \\ - \phantom{0}254 \\ \hline \end{array}$
(4) $\begin{array}{r} 4858 \\ - \phantom{0}356 \\ \hline \end{array}$	(5) $\begin{array}{r} 3487 \\ - \phantom{00}34 \\ \hline \end{array}$	(6) $\begin{array}{r} 7384 \\ -3952 \\ \hline \end{array}$
(7) $\begin{array}{r} 3646 \\ -1593 \\ \hline \end{array}$	(8) $\begin{array}{r} 4691 \\ -2679 \\ \hline \end{array}$	(9) $\begin{array}{r} 4640 \\ - \phantom{0}830 \\ \hline \end{array}$

3 練習をしましょう [くり下がり2~3か所のたし算]

(1) $7421 - 6374$	(2) $5269 - 3789$	(3) $4034 - 1616$
$\begin{array}{r} 7421 \\ -6374 \\ \hline \end{array}$	$\begin{array}{r} 5269 \\ -3789 \\ \hline \end{array}$	$\begin{array}{r} 4034 \\ -1616 \\ \hline \end{array}$
(4) $2130 - 92$	(5) $7222 - 2777$	(6) $3274 - 2278$
$\begin{array}{r} \phantom{0}2130 \\ - \phantom{00}92 \\ \hline \end{array}$	$\begin{array}{r} \phantom{0}7222 \\ - \phantom{00}2777 \\ \hline \end{array}$	$\begin{array}{r} \phantom{0}3274 \\ - \phantom{00}2278 \\ \hline \end{array}$
(7) $5213 - 669$	(8) $1340 - 345$	(9) $1110 - 111$
$\begin{array}{r} \phantom{0}5213 \\ - \phantom{00}669 \\ \hline \end{array}$	$\begin{array}{r} \phantom{0}1340 \\ - \phantom{00}345 \\ \hline \end{array}$	$\begin{array}{r} \phantom{0}1110 \\ - \phantom{00}111 \\ \hline \end{array}$

4 練習をしましょう [くり下がり2~3段階のたし算]

(1) $6903 - 2819$	(2) $5062 - 3682$	(3) $3002 - 1759$
$\begin{array}{r} 6903 \\ -2819 \\ \hline \end{array}$	$\begin{array}{r} 5062 \\ -3682 \\ \hline \end{array}$	$\begin{array}{r} 3002 \\ -1759 \\ \hline \end{array}$

【問題を作ろう】

\_\_\_月\_\_\_日( ) 名前\_\_\_\_\_

○ 問題を作って練習をしましょう

①	②	③	④
⑤	⑥	⑦	⑧
⑨	⑩	⑪	⑫
⑬	⑭	⑮	⑯
⑰	⑱	⑲	⑳

【問題を作ろう】

\_\_\_月\_\_\_日( ) 名前\_\_\_\_\_

○ 問題を作って練習をしましょう

①	②	③
④	⑤	⑥
⑦	⑧	⑨
⑩	⑪	⑫
⑬	⑭	⑮